

Arbeitsmaterialien – Die Staaten Europas

Arbeitsblatt 1 „Europa und angrenzende Staaten (ISO 3166)“;

Arbeitsblatt 2 „Staaten, Hauptstädte, Nachbarstaaten“

Die Arbeitsblätter 1 und 2 sind allem voran für die 4. Klasse AHS bzw. MS, Sekundarstufe I konzipiert. Aufgrund der Thematik ist eine Verwendung für den Geographie und Wirtschaftskunde Unterricht naheliegend.

Die Aufgabenstellungen bestehen vor allem in der Zuordnung von Bezeichnungen zu entsprechenden Items. Diese sollen einerseits die methodische Kompetenz der Schülerinnen und Schüler sowohl im Umgang mit Karten als auch die Orientierungskompetenz derselben schulen.

Die Fragestellungen der Arbeitsblätter lassen sich mithilfe der Karten sowie der beiliegenden Texte auf der Schulatlas-Homepage beantworten. Die Einbettung dieser in einen sinnvollen Unterrichtsprozess ist jedoch Voraussetzung für einen fruchtbaren Lernprozess bei den Schülerinnen und Schüler. Zur Lösung der Aufgabenstellungen können Einzelarbeiten als auch Partner- oder Kleingruppenarbeiten als geeignete Sozialformen dienen.

Arbeitsblatt 1 „Europa und angrenzende Staaten (ISO 3166)“

Anleitungen zu Arbeitsblatt 1

Bei diesem Arbeitsblatt geht es um die Zuordnung der ISO Kürzel zu den jeweiligen Staatsbezeichnungen. Die „ISO 3166“ ist ein Standard für die Kodierung von geografischen Einheiten, herausgegeben von der Internationalen Organisation für Normung (ISO). Zur Lösung der Aufgabe wird empfohlen die Karte „Europa und angrenzende Staaten (ISO 3166)“ unter „2.4.2 Die Staaten Europas“ heranzuziehen.

Arbeitsblatt 1 „Europa und angrenzende Staaten (ISO 3166)“

Nummer	Staat	ISO 3166
1		BE
2		BG
3		DK
4		DE
5		EE
6		FI
7		FR
8		GR
9		IE
10		IT
11		HR
12		LV
13		LT
14		LU
15		MT
16		NL
17		AT
18		PL
19		PT

20		RO
21		SE

22		SK
23		SI
24		ES
25		CZ
26		HU
27		GB
28		CY
29		EG
30		AL
31		DZ
32		AD
33		AM
34		AZ
35		BA
36		GE
37		IQ
38		IR
39		IS
40		IL
41		JO
42		KZ
43		XK
44		KW
45		LB

46		LY
47		LI

48		MA
49		MD
50		MC
51		ME
52		MK
53		NO
54		PS
55		RU
56		SM
57		SA
58		CH
59		RS
60		SY
61		TR
62		TN
63		TM
64		UA
65		UZ
66		VA
67		BY

Lösungen Arbeitsblatt 1 „Europa und angrenzende Staaten“

Nummer	Staat	*ISO 3166
1	Belgien	BE
2	Bulgarien	BG
3	Dänemark	DK
4	Deutschland	DE
5	Estland	EE
6	Finnland	FI
7	Frankreich	FR
8	Griechenland	GR
9	Irland	IE
10	Italien	IT
11	Kroatien	HR
12	Litauen	LV
13	Lettland	LT
14	Luxemburg	LU
15	Malta	MT
16	Niederlande	NL
17	Österreich	AT
18	Polen	PL
19	Portugal	PT
20	Rumänien	RO
21	Schweden	SE

22	Slowakei	SK
----	----------	----

23	Slowenien	SI
24	Spanien	ES
25	Tschechische Republik	CZ
26	Ungarn	HU
27	Großbritannien	GB
28	Zypern	CY
29	Ägypten	EG
30	Albanien	AL
31	Algerien	DZ
32	Andorra	AD
33	Armenien	AM
34	Aserbaidshan	AZ
35	Bosnien	BA
36	Georgien	GE
37	Irak	IQ
38	Iran	IR
39	Island	IS
40	Israel	IL
41	Jordanien	JO
42	Kasachstan	KZ
43	Kosovo	XK
44	Kuwait	KW

45	Libanon	LB
46	Libyen	LY
47	Liechtenstein	LI
48	Marokko	MA
49	Moldau	MD
50	Monaco	MC

51	Montenegro	ME
52	Nordmazedonien	MK
53	Norwegen	ME
54	Palästina	PS
55	Russland	RU
56	San Marino	SM
57	Saudi-Arabien	SA
58	Schweiz	CH
59	Serbien	RS
60	Syrien	SY
61	Türkei	TR
62	Tunesien	TN
63	Turkmenistan	TM
64	Ukraine	UA
65	Usbekistan	UZ
66	Vatikan	VA
67	Weißrussland	BY

Arbeitsblatt 2 „Staaten, Hauptstädte, Nachbarstaaten“





Anleitungen zu Arbeitsblatt 2






Die Aufgabenstellung besteht in der Zuordnung der dargestellten Staaten zu jeweiligen Staatsnamen, den Namen seiner Hauptstadt und die Bezeichnung der landseitig angrenzenden Nachbarstaaten.



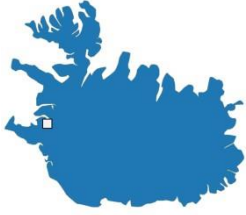


Anmerkung: Die einzelnen Staaten sind in unterschiedlichen Maßstäben dargestellt, um eine bessere Erkennbarkeit, besonders der kleinen Staaten, gewährleisten zu können.






Diese relativ schwierige Aufgabe ist nur unter Zuhilfenahme der Karten „Europa und angrenzende Staaten“ sowie „Hauptstädte Europa“ unter Kapitel „2.4.1 Die Staaten Europas“ zu lösen.



Arbeitsblatt 2 „Staaten, Hauptstädte, Nachbarstaaten“

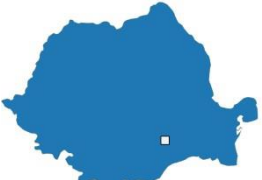


Staatsgebiet	Staat	Hauptstadt	Nachbarstaaten
			
			
			
			

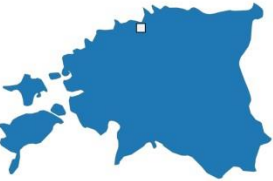

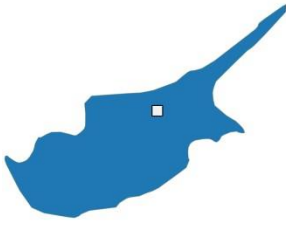


			
			
			
			
			



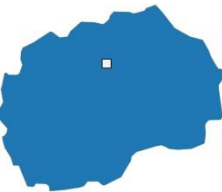

			
			
			
			
			






			
			






			
			
			


			
			
			
			


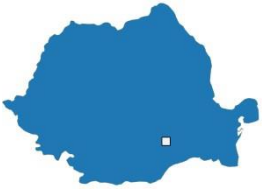
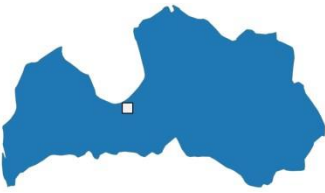
Lösungen-Arbeitsblatt 2 „Staaten, Hauptstädte, Nachbarstaaten“

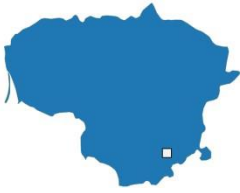
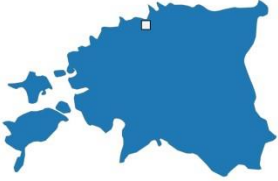
Staatsgebiet	Staat	Hauptstadt	Nachbarstaaten
	Finnland	Helsinki	Russland, Schweden, Norwegen
	Österreich	Wien	Deutschland, Schweiz, Italien, Slowenien, Ungarn, Lichtenstein, Slowakei, Tschechische Republik
	Bulgarien	Sofia	Rumänien, Türkei, Griechenland, Serbien, Nordmazedonien
	Belgien	Brüssel	Deutschland, Niederlande, Frankreich, Luxemburg
	Tschechische Republik	Prag	Österreich, Slowakei, Polen, Deutschland


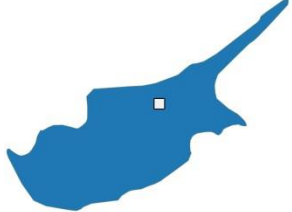



	Deutschland	Berlin	Tschechische Republik, Österreich, Frankreich, Luxemburg, Belgien, Niederlande, Dänemark, Polen, Schweiz
	Dänemark	Kopenhagen	Deutschland, Schweden
	Frankreich	Paris	Deutschland, Spanien, Italien, Schweiz, Luxemburg, Belgien, Monaco, Andorra
	Großbritannien	London	Irland
	Griechenland	Athen	Albanien, Nordmazedonien, Bulgarien, Türkei,


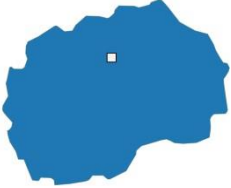

	Irland	Dublin	Großbritannien
	Island	Reykjavik	-
	Italien	Rom	Frankreich, Schweiz, Österreich, Slowenien, Vatikan, San Marino
	Kroatien	Zagreb	Slowenien, Bosnien und Herzegowina, Serbien, Ungarn, Montenegro
	Norwegen	Oslo	Schweden, Finnland, Russland

	Niederlande	Amsterdam	Deutschland, Belgien
	Polen	Warschau	Litauen, Russland (Kaliningrad), Weißrussland, Ukraine, Slowakei, Tschechische Republik, Deutschland, Russland
	Schweiz	Bern	Österreich, Deutschland, Italien, Frankreich, Lichtenstein
	Spanien	Madrid	Frankreich, Portugal, Andorra, (Marokko)
	Portugal	Lissabon	Spanien

	Ungarn	Budapest	Österreich, Rumänien, Slowakei, Ukraine, Slowenien, Kroatien, Serbien
	Rumänien	Bukarest	Bulgarien, Serbien, Ungarn, Ukraine, Moldau
	Lettland	Riga	Estland, Russland, Weißrussland, Litauen

	Litauen	Vilnius	Russland, Lettland, Weißrussland, Polen
	Estland	Tallinn	Russland, Lettland

	Slowakei	Bratislava	Ukraine, Ungarn, Österreich, Tschechische Republik, Polen
	Zypern	Nikosia	Türkei
	Türkei	Ankara	Bulgarien, Griechenland, Syrien, Irak, Iran, Aserbaidshan, Georgien, Armenien
	Slowenien	Ljubljana	Kroatien, Ungarn, Österreich, Italien
	Albanien	Tirana	Nordmazedonien, Montenegro, Kosovo, Griechenland

	Bosnien und Herzegowina	Sarajewo	Montenegro, Serbien, Kroatien
	Nordmazedonien	Skopje	Griechenland, Albanien, Kosovo, Serbien, Bulgarien
	Kosovo	Pristina	Nordmazedonien, Bulgarien, Serbien, Montenegro, Albanien